


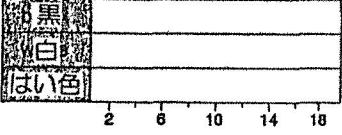



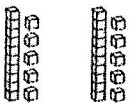



1:3		15 点満点
1	$\begin{array}{r} 25 \\ + 4 \\ \hline \end{array}$	$\begin{array}{r} 7 \\ + 52 \\ \hline \end{array}$
4	$\begin{array}{r} 12 \\ 31 \\ \hline 5 \end{array}$	$\begin{array}{r} 27 \\ 50 \\ \hline 12 \end{array}$
7	チョコレートが 35 個ありました。 23 個食べたら 残りはいくつ?	
8		100 個の四角があります: a 色のついた部分は 100 分の _____ b 色のついていない部分は _____ 分の _____
9	18 本のえん筆を 3 人で分けると 一人当たり何本?	
10		12 ひきのカブト虫の群れが 3 つあると カブト虫は全部で何ひき?
11	右のビー玉について ぼうグラフを完成 させなさい。	
		
12	2 時間は何分?	
13	6 週間は何日?	
14	4 と 8 の積はいくつ?	
15	32 の半分はいくつ?	

1:4 Extension		10 点満点
1	次の金額は 1 ドルの何分のいくつ? a 50 セント b 25 セント	
2	$\frac{7}{10}$ 左の分数について: a 分子は? b 分母は?	
3		a $48 + 25$ b $48 - 25$
4	1, 15, 23, 49, 60 上の数字のうち: a 5 の倍数は? b 平方数は?	
5		
	a A と B の色のついた部分を分数で表した時 分母が小さいのはどっち? b より大きい分数はどっち?	
6	a 5,066 よりも 104 多い数はいくつ? b 7,680 よりも 320 多い数はいくつ?	
7		a 2×15 b 5×15
8		
	上の 4 つの角度を小さい順に アルファベットを使って書きなさい。.....	
9	問 8 の角度について: a A は _____ 角という。 b D は _____ 角という	
10	20 人が手をつないで 横向きに 1 列にならんでいます。 つないだ手はいくつ?	



自分や家族や友だちを測って 表を完成させよう。

名前 : 日付:

年れい	体重 kg	くつのサイズ
身長 cm		首まわり cm

